

PROCESO SELECTIVO CONVOCADO POR RESOLUCIÓN DE 10 DE OCTUBRE DE 2023, DE LA VICECONSEJERÍA DE ADMINISTRACIONES PÚBLICAS Y ATENCIÓN AL CIUDADANO PARA INGRESO POR EL SISTEMA DE ACCESO LIBRE, EN LA CATEGORÍA PROFESIONAL DE CONDUCTOR-A DE LA ADMINISTRACIÓN DE LA COMUNIDAD DE CASTILLA Y LEÓN (BOCYL Nº 200 DE 18 DE OCTUBRE DE 2023)

EJERCICIO ÚNICO

El presente ejercicio consta de **dos partes**, la primera teórica y la segunda teórico-práctica, con un total de ciento diez (110) preguntas, más once (11) preguntas de reserva. Ambas preguntas son obligatorias y eliminatorias y se realizan en la presente sesión.

La primera parte del ejercicio consiste en contestar el cuestionario de ochenta (80) preguntas, numeradas de la 1 a la 80 y ocho (8) preguntas de reserva, numeradas de la 81 a la 88. Las 8 preguntas de reserva sustituirán por su orden a las preguntas de esta parte que puedan ser anuladas.

La segunda parte del ejercicio consiste en contestar por escrito un cuestionario de treinta (30) preguntas formuladas sobre tres supuestos de carácter teórico práctico (10 por cada supuesto), y tres (3) preguntas de reserva, una (1) por cada supuesto práctico. Las reservas de cada uno de los supuestos teórico-prácticos sustituyen a las preguntas que pudieran ser anuladas de cada uno de ellos. En el supuesto de que hubiera más preguntas anuladas que de reserva, las preguntas anuladas se tendrán por no puestas.

ESTRUCTURA DEL EJERCICIO:

➤ **PRIMERA PARTE:**

- ☐ Preguntas: nº.1 a nº.80
- ☐ Preguntas reserva: nº.81 a nº.88

➤ **SEGUNDA PARTE:**

- **PRIMER SUPUESTO PRÁCTICO:**
 - ☐ Preguntas: nº.89 a nº.98
 - ☐ Pregunta reserva: nº.99
- **SEGUNDO SUPUESTO PRÁCTICO:**
 - ☐ Preguntas: nº.100 a nº.109
 - ☐ Pregunta reserva: 110
- **TERCER SUPUESTO PRÁCTICO:**
 - ☐ Preguntas: nº.111 a nº.120
 - ☐ Pregunta reserva: nº.121

REGLAS DE REALIZACIÓN DEL EJERCICIO:

- Todas las preguntas tendrán el mismo valor en cada una de las partes del ejercicio
- Las preguntas cuentan con cuatro respuestas alternativas de las que solo una de ellas será correcta.
- Las contestaciones erróneas se penalizarán con un cuarto del valor de la respuesta correcta.
- Las preguntas no contestadas ni puntúan ni restan.
- El tiempo para la realización de este ejercicio (parte teórica y práctica) será de ciento veintiún (121) minutos.
- **La primera parte del ejercicio se calificará de cero (0) a diez (10 puntos).**

La calificación mínima para la superación de la primera parte del ejercicio será el 60% de la puntuación resultante de la media de las 10 puntuaciones más altas, obtenidas por los aspirantes, considerados a estos efectos una nota por cada aspirante, aunque la misma se repita.

No se declarará superada esta parte del ejercicio un número de aspirante que suponga más del 400% de las plazas objeto de la convocatoria para cada uno de los turnos, salvo empates en el marginal.
- **La segunda parte del ejercicio se calificará de cero (0) a diez (10 puntos).**

La calificación mínima para superar la segunda parte del ejercicio será de cinco (5) puntos.

No se declarará superada la fase de oposición un número superior de aspirantes que supongan más de un 250% de las plazas objeto de la convocatoria para cada uno de los turnos, salvo empates en el marginal.
- Lea muy atentamente las instrucciones que figuran al dorso de la “HOJA DE RESPUESTAS” sobre la forma de su cumplimentación.
- No se permite copiar, tal comportamiento conllevará la expulsión del proceso selectivo.
- Apaguen los móviles y cualquier dispositivo con conexión a móviles o internet y retírenlos de la mesa.
- Si algún opositor, durante la prueba, tuviera que hacer alguna observación, deberá levantar el brazo, sin moverse de su sitio, y será atendido por algún colaborador; el colaborador no contestará ninguna pregunta relacionada con el contenido del examen.
- Nadie podrá abandonar el aula dentro de los primeros 15 minutos de examen ni dentro de los 15 últimos.
- Ningún opositor comenzará el ejercicio hasta que el responsable del aula lo indique.
- El cuadernillo del examen y la plantilla con las respuestas correctas se publicará el día 27 de mayo de 2024 en la página [web www.empleopublico.jcyl.es](http://www.empleopublico.jcyl.es).

PRIMERA PARTE

- 1. Según el art. 23.5 del Estatuto de Autonomía de Castilla y León, los periodos ordinarios de las sesiones de las Cortes de Castilla y León se celebrarán:**
 - a) Entre enero y abril, el primero, y entre septiembre y diciembre, el segundo.
 - b) Entre septiembre y diciembre, el primero, y entre febrero y junio, el segundo.
 - c) Cuando se acuerden por la mayoría absoluta de los procuradores, antes del 31 de diciembre del año anterior.
 - d) Cuando se acuerden por la mitad más uno de los procuradores, antes del 31 de diciembre del año anterior.

- 2. Según el art. 4 del Estatuto de Autonomía de Castilla y León, son valores esenciales para la identidad de la Comunidad de Castilla y León y serán objeto de especial protección y apoyo:**
 - a) La lengua castellana y el patrimonio cultural e histórico.
 - b) La lengua castellana y el territorio de la Comunidad de Castilla y León.
 - c) La lengua castellana, el pendón y el blasón de Castilla y León.
 - d) La lengua castellana y el patrimonio histórico, artístico y natural.

- 3. Según el art. 70 del Estatuto de Autonomía de Castilla y León, es competencia exclusiva de la Comunidad de Castilla y León:**
 - a) Montes, aprovechamientos y servicios forestales, vías pecuarias, pastos y espacios naturales protegidos.
 - b) Obras públicas de interés para la Comunidad Autónoma dentro de su propio territorio que no tengan la calificación legal de interés general del Estado ni afecten a otra Comunidad Autónoma.
 - c) Régimen Local.
 - d) Sanidad agraria y animal.

- 4. Según el art. 36 de la Ley 3/2001 del Gobierno y de la Administración de la Comunidad de Castilla y León, la Administración General de la Comunidad se organiza funcionalmente en departamentos, bajo la denominación de:**
 - a) Consejerías.
 - b) Centros de gestión unificada.
 - c) Servicios.
 - d) Secciones.

- 5. Según el art. 87 de la Ley 3/2001 del Gobierno y de la Administración de la Comunidad de Castilla y León, cada organismo autónomo determinará su denominación, sus fines y competencias, su adscripción a la Consejería respectiva, sus órganos rectores y los bienes y medios económicos que se les asignen para el cumplimiento de sus fines conforme:**
 - a) Su Decreto de creación aprobado por la Junta de Castilla y León.
 - b) A La Orden del Consejero competente por razón de la materia.
 - c) Su Ley de creación.
 - d) Su Decreto de creación aprobado por el Presidente de la Junta de Castilla y León.

6. Según el art. 86 de la Ley 3/2001 del Gobierno y de la Administración de la Comunidad de Castilla y León, los organismos autónomos:

- a) Son sociedades mercantiles en cuyo capital la participación directa o indirecta de la Administración de la Comunidad Autónoma o de sus entidades institucionales sea superior al 50 por 100.
- b) Tienen encomendadas la realización de actividades de carácter económico, comercial, industrial, agrario, financiero o análogo, sujetándose fundamentalmente en su actuación al derecho privado.
- c) Tienen encomendadas la realización de actividades de fomento, prestacionales o de gestión de servicios públicos, sujetándose en su actuación al derecho privado.
- d) Tienen encomendadas la realización de actividades de fomento, prestacionales o de gestión de servicios públicos, sujetándose en su actuación al derecho administrativo.

7. Según el texto refundido de la Ley del Estatuto Básico del Empleado Público, señale qué derecho individual de los empleados públicos es ejercido de forma colectiva.

- a) Participación en la consecución de los objetivos atribuidos a la unidad donde preste sus servicios.
- b) Defensa jurídica y protección de la Administración Pública en los procedimientos que se sigan ante cualquier orden jurisdiccional como consecuencia del ejercicio legítimo de sus funciones o cargos públicos.
- c) Libre asociación profesional.
- d) Libertad sindical.

8. La estructura de la Constitución Española de 1978 consta de:

- a) Un título preliminar, diez títulos, nueve disposiciones adicionales, cuatro disposiciones transitorias, una disposición derogatoria y una disposición final.
- b) Un título preliminar, diez títulos, cuatro disposiciones adicionales, nueve disposiciones transitorias, una disposición derogatoria y una disposición final.
- c) Un título preliminar, diez títulos, siete disposiciones adicionales, cuatro disposiciones transitorias, una disposición derogatoria y una disposición final.
- d) Un título preliminar, nueve títulos, nueve disposiciones adicionales, cuatro disposiciones transitorias, una disposición derogatoria y una disposición final.

9. Según el art. 1.2 de la Constitución Española, la soberanía popular reside:

- a) En el pueblo español, del que emanan los poderes del Estado.
- b) En el Congreso de las Diputados, del que emanan los poderes del Estado.
- c) En las Cortes Generales, del que emanan los poderes del Estado.
- d) La Constitución Española no consagra la soberanía popular.

- 10. Según el art. 46.2 de la Ley 7/2005, de 24 de mayo, de la Función Pública de Castilla y León, “Se reservará, a aquellos que acrediten la condición legal de minusválido,...:**
- a) Un porcentaje no inferior al cinco por ciento de las vacantes de la oferta global de empleo público.”
 - b) Un porcentaje no inferior al siete por ciento de las vacantes de la oferta global de empleo público.”
 - c) Un porcentaje no inferior al ocho por ciento de las vacantes de la oferta global de empleo público.
 - d) Un porcentaje no inferior al diez por ciento de las vacantes de la oferta global de empleo público.”
- 11. ¿Qué personal al servicio de la Administración de la Comunidad de Castilla y León no está incluido en el ámbito de aplicación de la Ley 7/2005, de 24 de mayo, de la Función Pública de Castilla y León?**
- a) Personal laboral.
 - b) Personal interino.
 - c) Personal eventual.
 - d) Personal estatutario.
- 12. ¿Cuál es el órgano de vigilancia, control e interpretación del Convenio Colectivo para el personal laboral de la Administración General de la Comunidad de Castilla y León y organismos autónomos dependientes de ésta?**
- a) La Comisión de Secretarios Generales.
 - b) El Comité Intercentros.
 - c) La Comisión paritaria.
 - d) El SERLA (Servicio Regional de Relaciones Laborales).
- 13. Según el Convenio Colectivo para el personal laboral de la Administración General de la Comunidad de Castilla y León y organismos autónomos dependientes de ésta, una vez denunciado éste, ¿qué plazo se prevé para la constitución de la Comisión Negociadora del nuevo convenio?**
- a) El que acuerden las partes legitimadas para la negociación del nuevo convenio.
 - b) Un mes, a partir de la denuncia del convenio.
 - c) Dos meses, a partir de la denuncia del convenio.
 - d) Tres meses, a partir de la denuncia del convenio
- 14. En virtud de la Ley 2/2013, de 15 de mayo, de Igualdad de Oportunidades para las Personas con Discapacidad, cada cuánto debe aprobar la Junta de Castilla y León un Plan Autonómico de accesibilidad:**
- a) Cada dos años.
 - b) Cada tres años.
 - c) Cada cuatro años.
 - d) Cada cinco años.

- 15. Según la Ley 31/1995, de 8 de noviembre, de Prevención de Riesgos Laborales, ¿En qué empresas se constituirá un Comité de Seguridad y Salud?**
- a) En todas las empresas con independencia del número de trabajadores.
 - b) En todas las empresas o centros de trabajo que cuenten con 50 o más trabajadores.
 - c) En todas las empresas o centros de trabajo que cuenten con 40 o menos trabajadores.
 - d) A partir de 75 trabajadores.
- 16. La Ley 1/2011, de 1 de marzo, de Evaluación del Impacto de Género en Castilla y León, introduce como trámite preceptivo la elaboración del informe de impacto de género en los procedimientos de elaboración de:**
- a) Leyes y reglamentos exclusivamente.
 - b) Decretos exclusivamente.
 - c) Planes con independencia de su relevancia económica y social.
 - d) Normas y planes que por su especial relevancia económica y social se sometan a informe del Consejo Económico y Social y cuya aprobación corresponda a la Junta de Castilla y León.
- 17. Los preceptos del Real Decreto Legislativo 6/2015, de 30 de octubre, por el que se aprueba el texto refundido de la Ley sobre tráfico, circulación de vehículos a motor y seguridad vial son aplicables en todo el territorio nacional y obligan:**
- a) En defecto de otras normas, a los titulares de las vías y terrenos privados que sean utilizados por una colectividad determinada de usuarios.
 - b) En defecto de otras normas, a los titulares de las vías y terrenos privados que sean utilizados por una colectividad indeterminada de usuarios.
 - c) A los titulares y usuarios de las vías y terrenos públicos que no sean aptos para la circulación siempre que sean de uso privativo especial.
 - d) A los titulares y usuarios de las vías y terrenos públicos que no reúnan las condiciones adecuadas para la circulación siempre que sean de uso privativo local.
- 18. De conformidad con el Real Decreto Legislativo 6/2015, de 30 de octubre, por el que se aprueba el Texto Refundido de la Ley sobre tráfico, circulación de vehículos a motor y seguridad vial, corresponde a los municipios:**
- a) La regulación de aquellas actividades industriales que tengan una incidencia directa sobre la seguridad vial y, en especial, la de los talleres de reparación de vehículos.
 - b) Los cursos de sensibilización y reeducación vial.
 - c) La restricción de la circulación a determinados vehículos en vías urbanas por motivos medioambientales.
 - d) La coordinación de la prestación de la asistencia sanitaria en las vías públicas o de uso público.

- 19. De conformidad con el Real Decreto Legislativo 6/2015, de 30 de octubre, por el que se aprueba el Texto Refundido de la Ley sobre tráfico, circulación de vehículos a motor y seguridad vial, la sanción de las infracciones por incumplimiento de la obligación de someterse a la inspección técnica de vehículos le corresponde:**
- a) Al concejal de tráfico del municipio en el que esté matriculado el vehículo.
 - b) A la Jefatura Central de Tráfico (Dirección General de Tráfico).
 - c) Al Consejo Superior de Tráfico, Seguridad Vial y Movilidad Sostenible.
 - d) Al Alcalde del municipio en el que esté matriculado el vehículo.
- 20. De conformidad con el Real Decreto Legislativo 6/2015, de 30 de octubre, por el que se aprueba el Texto Refundido de la Ley sobre tráfico, circulación de vehículos a motor y seguridad vial, la coordinación de la estadística y la investigación de accidentes de tráfico, le corresponde a:**
- a) La Comisión Permanente del Consejo Superior de Tráfico, Seguridad Vial y Movilidad Sostenible.
 - b) Al Pleno del Consejo Superior de Tráfico, Seguridad Vial y Movilidad Sostenible.
 - c) La Conferencia Sectorial de tráfico, Seguridad Vial y Movilidad Sostenible.
 - d) La Jefatura Central de Tráfico (Dirección General de Tráfico).
- 21. Según el Real Decreto 818/2009, de 8 de mayo, por el que se aprueba el Reglamento General de Conductores, para conducir fuera del territorio nacional conjuntos de vehículos acoplados compuestos por un vehículo tractor de los que autoriza a conducir el permiso de la clase D1 y un remolque cuya masa máxima autorizada exceda de 750 kg, sin perjuicio de las disposiciones que las normas de aprobación de tipo establezcan para estos vehículos, el titular del permiso deberá tener como mínimo:**
- a) 18 años cumplidos.
 - b) 20 años cumplidos.
 - c) 21 años cumplidos.
 - d) 24 años cumplidos.
- 22. Según el Real Decreto 818/2009, de 8 de mayo, por el que se aprueba el Reglamento General de Conductores La obtención del permiso de conducción D+E implica la concesión del siguiente permiso:**
- a) C1+E
 - b) C+E
 - c) B+E
 - d) Ninguna de las anteriores es correcta.
- 23. En virtud del Real Decreto 818/2009, de 8 de mayo, por el que se aprueba el Reglamento General de Conductores, para que una persona extranjera pueda obtener un permiso o una licencia de conducción en España se requerirá que acredite la situación de residencia normal o estancia por estudios en España de:**
- a) al menos, dos meses y haber cumplido la edad requerida.
 - b) al menos, tres meses y haber cumplido la edad requerida.
 - c) al menos, seis meses y haber cumplido la edad requerida.
 - d) al menos, doce meses y haber cumplido la edad requerida.

24. ¿Por cuál de estos términos municipales pasa la A-62?

- a) Puebla de Yeltes.
- b) Sancti Spiritus.
- c) Tamames.
- d) Vitigudino.

25. ¿En qué provincia está el municipio de Arévalo de la Sierra?:

- a) Segovia.
- b) Ávila.
- c) Zamora.
- d) Soria.

26. De acuerdo con el Reglamento General de Circulación, en una calzada de doble sentido, un vehículo especial con masa máxima autorizada de 4.000 kilogramos:

- a) Deberá circular siempre por la calzada.
- b) Deberá circular por la calzada y no por el arcén, salvo por razones de emergencia.
- c) Deberá circular siempre por el arcén.
- d) Deberá circular siempre con un vehículo piloto.

27. De acuerdo con el Reglamento General de Circulación, en calzadas con doble sentido de circulación y tres carriles separados por marcas longitudinales discontinuas:

- a) El carril central sólo se utilizará para efectuar los adelantamientos precisos.
- b) El carril central se podrá utilizar para circular, en cualquier caso.
- c) El carril central solo se utilizará para cambiar de dirección hacia la izquierda.
- d) El carril central tan solo se utilizará para efectuar los adelantamientos precisos y para cambiar de dirección a la izquierda.

28. De acuerdo con el Reglamento General de Circulación, la velocidad máxima por la que podrá circular en una autopista un camión con masa máxima autorizada superior a 3.500 Kg. destinado al transporte de mercancías peligrosas es de:

- a) 80 Km/h.
- b) 90 Km/h.
- c) 100 Km/h.
- d) 120 Km/h.

29. Los conductores de vehículos destinados al transporte de viajeros de más de 9 plazas no podrán hacerlo con una tasa de alcohol en sangre superior a:

- a) 0,30 g/l.
- b) 0,20 g/l.
- c) 0,15 g/l.
- d) 0,25 g/l.

30. ¿Cuál es el principal gas emitido por el tubo de escape de un vehículo?

- a) Dióxido de Carbono (CO₂).
- b) Nitrógeno (N₂).
- c) Anhídrido sulfuroso (SO₂).
- d) Monóxido de Carbono (CO).

31. El rendimiento del motor de un turismo viene determinado por la diferencia de temperatura entre el calor que se le suministra y el calor que devuelve al exterior. Del poder calorífico del combustible gasolina, ¿en qué porcentaje se producen pérdidas?

- a) En un 40%.
- b) En un 50%.
- c) En un 60%.
- d) En un 75%.

32. ¿La cilindrada del motor de un vehículo está relacionada con la eficiencia de la conducción?

- a) Sí, cuanto menor es la cilindrada del motor, mayor es el ahorro de combustible si se utiliza una conducción tranquila y sosegada.
- b) Sí, cuanto mayor es la cilindrada del motor, mayor es el ahorro de combustible si se utiliza una conducción tranquila y sosegada.
- c) No, la cilindrada del motor no afecta al consumo del vehículo si se utiliza una conducción tranquila y sosegada.
- d) Sí, cuanto menor es la cilindrada del motor, mayor es el ahorro de combustible si se lleva el motor en el par de revoluciones.

33. De acuerdo con el Reglamento General de Circulación, las velocidades máximas que no deberán ser rebasadas por autobuses que realicen transporte escolar y de menores son:

- a) En autopista y autovía 100 km/h y en carretera convencional 90 km/h.
- b) En autopista y autovía 100 km/h y en carretera convencional 80 km/h.
- c) En autopista y autovía 90 km/h y en carretera convencional 80 km/h.
- d) Tanto en autopista y autovía como en carretera convencional 80 km/h.

34. Las infracciones a las normas relativas a las velocidades mínimas en poblado y fuera de poblado contenidas en el artículo 49 del Real Decreto 1428/2003, de 21 de noviembre, por el que se aprueba el Reglamento General de Circulación, tendrán la consideración de:

- a) Muy leves.
- b) Leves.
- c) Graves.
- d) Muy graves.

35. Los vehículos con masa autorizada superior a 3.500 kg que circulen de forma fluida detrás de otro vehículo sin señalar su propósito de adelantamiento, fuera de poblado y por una vía de un solo carril para su sentido en la que no esté prohibido adelantar, deberán guardar una separación mínima de:

- a) 50 metros.
- b) 70 metros.
- c) 40 metros.
- d) 60 metros.

36. El Reglamento General de Circulación, permite circular marcha atrás:

- a) En autovías y autopistas en los casos en que no sea posible marchar hacia adelante ni cambiar de dirección o sentido de marcha, siempre que no existan vehículos circulando en el mismo sentido.
- b) Como maniobra complementaria de la parada o el estacionamiento, siempre que el recorrido no sea superior a 25 metros, incluso invadiendo un cruce de vías, siempre que no exista riesgo para el conductor ni para los demás vehículos.
- c) Como maniobra complementaria de otra que la exija, y siempre con el recorrido mínimo indispensable para efectuarla.
- d) Como maniobra complementaria de la incorporación a la circulación, siempre que el recorrido no sea superior a 50 metros.

37. En los supuestos de retirada y depósito del vehículo del artículo 105 del Real Decreto Legislativo 6/2015, de 30 de octubre, por el que se aprueba el texto refundido de la Ley sobre Tráfico, Circulación de Vehículos a Motor y Seguridad Vial, la Administración deberá comunicar dicha retirada y depósito en el plazo de:

- a) 24 horas.
- b) 36 horas.
- c) 48 horas como máximo.
- d) 48 horas en el caso de que coincida con un día no laborable o festivo.

38. En virtud de lo dispuesto por el Reglamento General de Circulación, en las intersecciones, en defecto de señal que regule la preferencia de paso,

- a) Tendrán preferencia los vehículos que se aproximen por la derecha en todos los casos.
- b) Tendrán preferencia los vehículos que circulen por una vía sin pavimentar sobre los que lo hagan por otra pavimentada.
- c) Tendrán preferencia los vehículos que circulen por raíles sobre los demás usuarios.
- d) Tendrán preferencia los vehículos que pretendan acceder a una autopista sobre los que circulen por ella.

39. De acuerdo con el Reglamento General de Circulación, en caso de encuentro entre dos vehículos que no se puedan cruzar en puentes u obras de paso sin señalización, tendrá que retroceder para dejar pasar al otro:

- a) Los vehículos de tracción animal para dejar pasar a camiones.
- b) Los vehículos destinados al transporte colectivo de viajeros para dejar pasar a autocaravanas.
- c) Los camiones, tractocamiones y furgones para dejar pasar a vehículos de tres ruedas.
- d) Los conjuntos de vehículos para dejar pasar a camiones.

40. Los conductores de bicicletas tienen prioridad de paso respecto de los vehículos a motor:

- a) Cuando circulen por la calzada por no existir un carril bici debidamente señalizado.
- b) Cuando circulando en grupo, el primero haya iniciado ya el cruce o haya entrado en una glorieta.
- c) Cuando vayan a girar para entrar a otra vía, sobre los vehículos que circulen por ella.
- d) Cuando ambos vehículos coincidan en una intersección entre dos vías sin pavimentar.

41. ¿Se puede utilizar la luz antiniebla delantera, sin condiciones meteorológicas o ambientales que disminuyan sensiblemente la visibilidad?:

- a) No, únicamente en caso de niebla, lluvia intensa, nevada, nubes de humo o de polvo.
- b) Sí, pero únicamente los vehículos pesados.
- c) Sí, en tramos de vías estrechas con muchas curvas.
- d) Dependerá del criterio subjetivo del conductor.

42. Según el Reglamento General de Circulación, se entiende por vía insuficientemente iluminada:

- a) Aquella en la que, con vista normal, en algún punto de su calzada, no pueda leerse la placa de matrícula a 5 metros o no se distinga un vehículo pintado de oscuro a 50 metros de distancia.
- b) Aquella en la que, con vista normal, en algún punto de su calzada, no pueda leerse la placa de matrícula a 10 metros o no se distinga un vehículo pintado de oscuro a 50 metros de distancia.
- c) Aquella en la que, con vista normal, en algún punto de su calzada, no pueda leerse la placa de matrícula a 10 metros o no se distinga un vehículo pintado de oscuro a 100 metros de distancia.
- d) Aquella en la que, con vista normal, en algún punto de su calzada, no pueda leerse la placa de matrícula a 5 metros o no se distinga un vehículo pintado de oscuro a 100 metros de distancia.

43. Elija la respuesta correcta en relación con el orden de prioridad entre las señales de circulación establecido por el Reglamento General de Circulación, de mayor a menor prioridad:

- a) Semáforos, marcas viales y señales verticales de circulación.
- b) Semáforos, señales verticales de circulación y marcas viales.
- c) Marcas viales, semáforos y señales verticales de circulación.
- d) Marcas viales, señales verticales de circulación y semáforos.

- 44. Cuando, excepcionalmente, el semáforo consista en una franja blanca iluminada sobre fondo circular negro, sus indicaciones se refieren exclusivamente a:**
- a) Los ciclos y ciclomotores.
 - b) Los remolques y semirremolques.
 - c) Los tranvías y los autobuses de líneas regulares.
 - d) Las motocicletas con sidecar.
- 45. La responsabilidad de la señalización de carácter circunstancial en razón de las contingencias del tráfico y de la señalización variable necesaria para su control en una vía urbana de la ciudad de Salamanca, es de:**
- a) El Jefe Provincial de Tráfico de Salamanca.
 - b) El Alcalde de Salamanca.
 - c) El Presidente de la Diputación Provincial de Salamanca.
 - d) El Subdelegado del Gobierno en Salamanca.
- 46. Todo vehículo de motor deberá estar provisto de un indicador de velocidad en kilómetros por hora si es capaz de alcanzar en llano una velocidad superior a:**
- a) Los 30 kilómetros por hora.
 - b) Los 40 kilómetros por hora.
 - c) Los 35 kilómetros por hora.
 - d) Los 25 kilómetros por hora.
- 47. Los importes de la cobertura del seguro obligatorio serán:**
- a) En los daños y perjuicios ocasionados por las lesiones o fallecimiento del conductor/a del vehículo causante del accidente, 70 millones de euros por siniestro.
 - b) En los daños a las personas, 15 millones de euros por siniestro, cualquier que sea el número de víctimas.
 - c) En los daños a las personas, 70 millones de euros por siniestro, cualquiera que sea el número de víctimas.
 - d) En los daños a las personas, sin límite de cobertura.
- 48. Según el Reglamento General de Vehículos, en su clasificación por criterios de utilización, al vehículo destinado al transporte de mercancías en un receptáculo totalmente cerrado, acolchado o adoptado especialmente en su interior, se le clasifica como:**
- a) 32 Góndola.
 - b) 20 Caja cerrada.
 - c) 47 RTV.
 - d) 21 Capitoné.
- 49. De los siguientes vehículos señale al que le corresponda el distintivo ambiental “0 emisiones”:**
- a) Vehículos híbridos no enchufables (HEV).
 - b) Vehículos eléctricos híbridos enchufables (PHEV) con una autonomía mínima de 40 kilómetros (ciclo NEDC).
 - c) Vehículos propulsados por gas natural comprimido (GNC).
 - d) Ninguna de las anteriores es correcta.

50. ¿Cuál es la misión de la sonda lambda en el sistema de escape de un motor térmico?:

- a) Medir la cantidad de oxígeno contenido en los gases de escape.
- b) Medir la cantidad de nitrógeno contenido en los gases de escape.
- c) Medir la cantidad de partículas sólidas que contienen los gases de escape.
- d) Reciclar los gases de escape devolviéndolos a la admisión.

51. El gasóleo con un bajo número o índice de cetano:

- a) Se quema rápidamente, provoca un ruido excesivo, aumenta las emisiones y la fatiga del motor.
- b) Se quema lentamente, lo que contribuye a la menor fatiga del motor.
- c) Se quema lentamente, lo que da más tiempo a los sistemas depurativos (válvula EGR, catalizador, etc.) a limpiar los gases de escape emitiendo menos partículas.
- d) Se quema rápidamente, por lo que el motor es más eficaz.

52. ¿Qué ocurre si se obstruye el filtro de aceite?:

- a) Que el motor se para automáticamente para que no sufra ninguna avería.
- b) Que al dejar de lubricar las piezas del motor llegarían a griparse.
- c) Que el circuito de aceite comprendido entre la bomba y el filtro podría llegar a reventar debido a la sobrepresión.
- d) Que el aceite pasa por una segunda canalización, evitando el filtro, por lo que el aceite iría sin filtrar.

53. ¿Con qué intervalo de grado de viscosidad a un aceite se le denomina valvulina, según las normas SAE (Sociedad de Ingenieros Automotrices)?:

- a) De 60 a 130.
- b) De 70 a 110.
- c) De 70 a 120.
- d) De 80 a 120.

54. Una lata de aceite de motor con la nomenclatura "API SN/CJ" significa:

- a) Que es un aceite tanto para gasolina como para diésel que va a estar sometido a condiciones duras de funcionamiento.
- b) Que es un aceite sólo para un motor de gasolina de bajas prestaciones.
- c) Que es un aceite sólo para un motor diésel de bajas prestaciones.
- d) Esta nomenclatura no existe.

55. Una indicación de "150 Ah" en una batería significa:

- a) Que la batería tiene una tensión de 150 Ah.
- b) La cantidad de energía que puede almacenar la batería.
- c) La capacidad de arranque en frío de la batería.
- d) Que la batería tiene una potencia de 150 Ah.

56. ¿Cuál es la función de los diodos en un alternador?:

- a) Regular la tensión que sale del alternador para que siempre llegue la misma a los distintos consumidores del sistema.
- b) Impedir que la energía que genera el alternador retorne a éste provocando una avería.
- c) Aumentar la tensión de la energía que produce el alternador para que sea suficiente para los distintos consumos del sistema.
- d) Transformar la corriente alterna que produce el alternador en corriente continua.

57. ¿Qué indica el amperímetro del cuadro de instrumentos de un vehículo?

- a) La intensidad de la corriente que fluye hacia o desde la batería.
- b) La tensión de la corriente que fluye hacia o desde la batería.
- c) La potencia de la corriente que fluye hacia o desde la batería.
- d) La tensión de la corriente que fluye hacia la batería por unidad de tiempo.

58. La parte del embrague que se halla entre el plato de presión y el volante de inercia, se llama:

- a) Cojinete de empuje.
- b) Horquilla de embrague.
- c) Maza.
- d) Disco de embrague.

59. En la transmisión de un vehículo, los trenes de engranaje epicicloidales engranan directamente con:

- a) La corona dentada.
- b) El eje primario de la caja de velocidades.
- c) Los piñones satélites.
- d) El piñón de ataque.

60. ¿Qué significado tiene la inscripción REINFORCED en un neumático?:

- a) Que lleva los talones reforzados.
- b) Que lleva la banda de rodamiento reforzada.
- c) Que lleva los flancos reforzados.
- d) Que lleva los hombros reforzados.

61. La barra estabilizadora se monta en los dos ejes:

- a) Fijando sus dos extremos a los soportes de suspensión de las ruedas.
- b) Fijando sus dos extremos a los soportes de suspensión de los muelles.
- c) Fijando sus dos extremos a los soportes de suspensión de las ballestas.
- d) Fijando sus dos extremos a los soportes de suspensión de las barras.

62. ¿Cuándo se deben purgar los calderines de freno, si el sistema de frenado no dispone de válvula automática?:

- a) Una vez al mes, o cada día de invierno.
- b) Una vez a la semana en invierno.
- c) Cada dos meses.
- d) Cada tres meses o semanalmente si las temperaturas son muy altas.

63. Las válvulas de drenaje existentes en todos los calderines sirven para permitir efectuar la retirada de:

- a) agua que se acumula en su interior.
- b) aire que se acumula en su interior.
- c) aceite que se acumula en su interior.
- d) refrigerante que se acumula su el interior.

64. La válvula de cuatro vías del circuito de frenado:

- a) Se acciona automáticamente en función de la velocidad.
- b) Deja pasar el aire a presión hasta los cilindros de freno.
- c) Sirve para conservar la presión en el resto de los circuitos.
- d) Es accionada por el pedal de freno.

65. Para que un vehículo pueda circular, ¿cuál será la presión máxima que pueda ejercer un neumático sobre el pavimento, calculado en Kg por cm²?

- a) 12 kg por cm².
- b) 10 kg por cm².
- c) 11 kg por cm².
- d) 9 kg por cm².

66. ¿Cómo es conocida también la distribución electrónica de la fuerza de frenado?:

- a) Electronically controled brake system (EBS).
- b) Electronic stability program (ESP).
- c) Electronic brake variation (EBV).
- d) Brake assitance system (BAS).

67. ¿Cuál de los siguientes elementos es un elemento de seguridad pasiva o secundaria en la vía?:

- a) Los pavimentos drenantes.
- b) Los paneles direccionales permanentes.
- c) El peralte adecuado de las curvas.
- d) Las barreras de seguridad.

68. En los vehículos que dispongan de airbag frontal de hasta nueve plazas, incluido el conductor, los menores de edad de estatura igual o inferior a 135 centímetros que utilicen sistemas de retención infantil (SRI), se podrán instalar en los asientos delanteros:

- a) Cuando los SRI vayan orientados hacia atrás únicamente se podrán utilizar si el airbag ha sido desactivado.
- b) En ningún caso se pueden instalar este tipo de sistemas SRI en los asientos delanteros.
- c) Con independendencia de la orientación del asiento y se ha de desactivar el airbag.
- d) En todo caso y el airbag no se debe desactivar nunca.

69. ¿Cuántos sistemas de ayuda al conductor (ADAS) deben incorporar de serie todos los coches de nueva homologación a partir del 6 de julio de 2022?

- a) Al menos ocho.
- b) Al menos seis.
- c) Al menos diez.
- d) Al menos doce.

70. Cuando se circula con un vehículo en una curva, ¿a qué nos referimos cuando decimos que tiene una tendencia sobreviradora?:

- a) A que sigue una trayectoria más abierta que la teórica, viéndose el conductor obligado a girar la dirección más para que describa la trayectoria deseada.
- b) A que el vehículo sigue una trayectoria más cerrada que la teórica, viéndose el conductor obligado a girar la dirección menos para que describa la trayectoria deseada.
- c) A que el vehículo tiende a salirse de frente en las curvas cerradas.
- d) No existe este concepto pues ningún vehículo sobrevira.

71. ¿A qué nos referimos cuando definimos un vehículo como de propulsión?:

- a) A que el eje motriz es el delantero.
- b) A que dispone de doble eje motriz.
- c) A que el eje motriz es el trasero.
- d) A que tiene el motor turboalimentado.

72. ¿Cuáles son las zonas de incertidumbre que tienen los vehículos (zonas en las que el conductor no tiene seguridad de lo que en ella puede suceder)?

- a) Los laterales del vehículo.
- b) La parte trasera del vehículo.
- c) La parte trasera y los laterales del vehículo.
- d) La parte trasera, la delantera y los laterales del vehículo.

73. Los accidentes provocados por muertes naturales confirmadas o en los que existan indicios de suicidio o intento de suicidio, cuando no produzcan daños a otras personas, se consideran:

- a) Accidente de tráfico con víctimas.
- b) Accidente de tráfico sin víctimas.
- c) No se considera accidente de tráfico.
- d) Accidente de tráfico con independencia de que se produzcan daños o no a otras personas.

74. ¿Qué es la distancia de detención?

- a) Es el espacio que se recorre desde que percibimos el obstáculo hasta que se acciona el pedal de freno.
- b) Es el espacio que se recorre durante la frenada.
- c) Es la suma de los anteriores.
- d) Es el recorrido que hacemos antes de efectuar un descanso en un viaje largo.

- 75. En qué tipo de accidentes se produce el llamado efecto de inmersión o efecto submarino:**
- a) En las colisiones frontales.
 - b) En los accidentes en los que se produce una precipitación o inmersión en una masa de agua.
 - c) En los atropellos.
 - d) En las colisiones laterales.
- 76. En la valoración inicial de un accidentado inconsciente se sigue el orden de la regla nemotécnica ABC, ¿qué significa?**
- a) Vía aérea, respiración, circulación
 - b) Aproximación, búsqueda, continuación.
 - c) Vía aérea, respiración, capacidad pulmonar.
 - d) Aproximación, boca, corazón.
- 77. Como norma general, en caso de decidir movilizar a un herido de un accidente, ¿cuál de las siguientes consideraciones previas han de tenerse en cuenta?**
- a) Al menos se precisarán tres auxiliares para mover adecuadamente a un herido para extraerlo del vehículo.
 - b) Si la movilización es para trasladarlo a otra parte de la calzada, es suficiente dos auxiliares para mover adecuadamente a un herido.
 - c) Es suficiente dos auxiliares para mover adecuadamente a un herido, en cualquier caso.
 - d) Es mejor arrastrar al herido por dos auxiliares.
- 78. A un accidentado, ¿Cuándo podemos colocarle en Posición Lateral de Seguridad (PLS)?**
- a) Únicamente si comienza a vomitar o sangrar por la boca.
 - b) Con carácter general debemos colocar en PLS a todos los accidentados.
 - c) Cuando estemos solos, y tenemos que abandonarle temporalmente para avisar al servicio de emergencias.
 - d) Siempre que esté inconsciente.
- 79. Se considera delito conducir con una la tasa de alcohol:**
- a) Superior a 0,50 mg/l en aire, 1,5 gr/l en sangre.
 - b) Superior a 0,60 mg/l en aire, 1,2 gr/l en sangre.
 - c) Superior a 0,50 mg/l en aire, 1,2 gr/l en sangre.
 - d) Superior a 0,70 mg/l en aire, 1,5 gr/l en sangre.
- 80. Existen cuatro categorías de fármacos en función de sus efectos sobre la capacidad de conducción. ¿Qué efectos producen los fármacos de categoría III?**
- a) Influencia moderada.
 - b) Influencia intensa.
 - c) Influencia marcada.
 - d) Influencia muy marcada.

PREGUNTAS RESERVA

- 81. Según la Ley 7/2005, de 24 de mayo, de la Función Pública de Castilla y León, la competencia para determinar el número y las retribuciones de los puestos de trabajo reservados a personal eventual, siempre en función de los créditos presupuestarios consignados al efecto, corresponde:**
- a) A las Cortes de Castilla y León, mediante la aprobación de la Ley anual de presupuestos.
 - b) Al Consejero competente en materia de política presupuestaria y de gasto público.
 - c) A la Junta de Castilla y León.
 - d) Al Presidente de la Junta de Castilla y León.
- 82. Según el Convenio Colectivo para el personal laboral de la Administración General de la Comunidad de Castilla y León y organismos autónomos dependientes de ésta, en las Comisiones de traslados del personal laboral el número de los representantes de las organizaciones sindicales:**
- a) Podrá ser igual o superior al de las/los miembros designados a propuesta de la Administración.
 - b) No podrá ser igual o superior al de las/los miembros designados a propuesta de la Administración.
 - c) Deberá ser superior al de las/los miembros designados a propuesta de la Administración.
 - d) Deberá ser igual al de las/los miembros designados a propuesta de la Administración.
- 83. ¿Cuál de estos embalses se encuentra en la provincia de León?**
- a) Embalse de la Aceña.
 - b) Embalse de Monteagudo.
 - c) Embalse de Villameca.
 - d) Embalse de Uzquita.
- 84. En relación con la maniobra de cambio de dirección, ¿Cuál de las siguientes afirmaciones es incorrecta?**
- a) Para efectuar la maniobra, el conductor advertirá su propósito mediante señales ópticas que se efectuarán con antelación suficiente a la iniciación de la maniobra, y, si son luminosas, permanecerán en funcionamiento hasta que termine aquélla.
 - b) Si el cambio de dirección es a la izquierda y la calzada por la que circula es de doble sentido de la circulación, se colocará en la zona destinada al sentido contrario, ciñéndose a la marca longitudinal de separación entre sentidos o, si ésta no existiera, al eje de la calzada.
 - c) La colocación del vehículo en el lugar adecuado se efectuará con la necesaria antelación y la maniobra en el menor espacio y tiempo posibles.
 - d) Toda maniobra de desplazamiento lateral que implique cambio de carril deberá llevarse a efecto respetando la prioridad del que circule por el carril que se pretende ocupar.

- 85. Según el Reglamento General de Circulación, todo vehículo deberá llevar encendida la luz de gálibo sí:**
- a) La anchura del vehículo excede de 2,10 metros.
 - b) La altura del vehículo excede de 4,50 metros.
 - c) La anchura del vehículo excede de 2,40 metros.
 - d) La altura del vehículo excede de 4,10 metros.
- 86. ¿Cuántas carreras necesita el pistón de un motor diésel de cuatro tiempos para realizar un ciclo completo y cuantas vueltas da el cigüeñal?**
- a) Dos carreras completas y una vuelta de cigüeñal.
 - b) Cuatro carreras completas y dos vueltas de cigüeñal.
 - c) Una carrera completa y una vuelta de cigüeñal.
 - d) Cuatro carreras completas y cuatro vueltas de cigüeñal.
- 87. La diferencia entre el número de dientes del piñón de ataque y de la corona dentada produce una desmultiplicación constante de las revoluciones del eje secundario, comprendida entre:**
- a) 5:8.
 - b) 5:1.
 - c) 1:5.
 - d) 8:1.
- 88. De acuerdo con el Reglamento General de Circulación, por un carril habilitado para Vehículos con Alta Ocupación (VAO), podrán circular:**
- a) Ciclomotores y motocicletas.
 - b) Vehículos que ostenten la señal V15.
 - c) Turismos con remolque.
 - d) Vehículos de tracción animal.

SEGUNDA PARTE

SUPUESTO PRÁCTICO Nº 1

89. ¿Qué indica la siguiente señal?



- a) Entrada prohibida a vehículos que transporten líquidos inflamables.
- b) Entrada prohibida a vehículos que transporten más de 3000 litros de productos contaminantes del agua.
- c) Entrada prohibida a vehículos que transporten más de 1000 litros de productos contaminantes del agua.
- d) Entrada prohibida a vehículos que transporten más de 2000 litros de productos contaminantes del agua.

90. ¿Qué indica la siguiente señal?



- a) Indica a los conductores de los vehículos que circulen por una calzada su prioridad en las intersecciones sobre los vehículos que circulen por otra calzada.
- b) Indica la proximidad del lugar en que la calzada por la que se circula pierde su prioridad respecto a otra calzada.
- c) Peligro por la proximidad de un tramo de vía en obras.
- d) Ninguna es correcta.

91. ¿Qué indica la siguiente señal?



- a) Prohibición de acceso a vehículos de motor con remolque cuya masa máxima autorizada supere 2 toneladas.
- b) Prohibición de acceso a vehículos de motor con remolque cuya tara supere las 2 toneladas.
- c) Prohibición de acceso a vehículos de motor con remolque, que no sea un semirremolque o un remolque de un solo eje, exceptuando los de un solo eje cuya masa máxima autorizada supere las 2 toneladas.
- d) Prohibición de acceso a todo tipo de vehículos con remolque cuya masa máxima autorizada supere las dos toneladas.

92. Si conduce un autobús y encuentra esta señal debe:



- a) Circular con cadenas o neumáticos especiales.
- b) Circular como máximo a 30 km/h.
- c) No podrá circular.
- d) No superar los 60 km/h y utilizar cadenas o neumáticos especiales.

93. Usted conduce un vehículo de MMA 3500 kg detrás de otro vehículo al que no tiene intención de adelantar. Al llegar a un túnel encuentra esta señal, ¿qué distancia debe guardar con el vehículo precedente?:



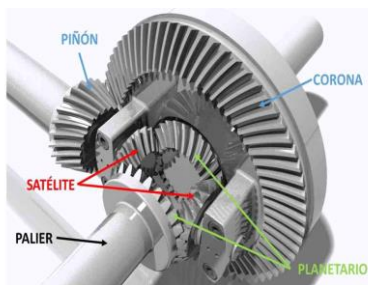
- a) 100 metros o dos galones.
- b) Una distancia superior a 150 metros o 3 galones.
- c) 300 metros o 3 galones.
- d) 200 metros o 2 galones.

94. ¿Qué pieza se representa en la siguiente imagen?



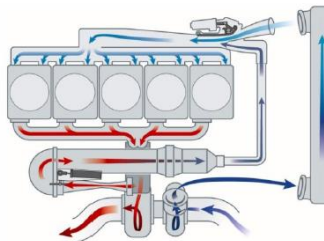
- a) Sensor de temperatura.
- b) Sensor de velocidad.
- c) Sensor de presión de aceite.
- d) Sensor de oxígeno o sonda lambda.

95. En la siguiente imagen ¿Qué piezas forman el grupo cónico?



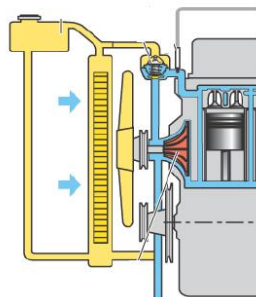
- a) Los satélites, el piñón y la corona.
- b) Los planetarios y los satélites.
- c) El piñón y la corona.
- d) Todo el conjunto forma el grupo cónico.

96. ¿Qué pieza se representa en las siguientes imágenes?



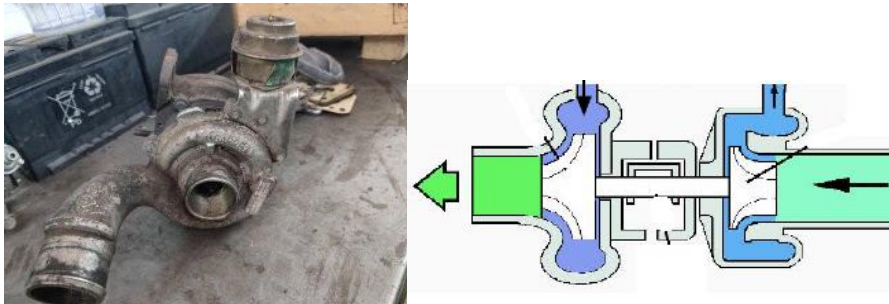
- a) Válvula de mariposa.
- b) Bomba de baja presión.
- c) Bombín de freno.
- d) Válvula EGR.

97. ¿Qué pieza se representa en las siguientes imágenes?



- a) Turbo.
- b) Bomba de refrigeración.
- c) Bomba de aceleración.
- d) Bomba de engrase.

98. ¿Qué pieza se representa en las siguientes imágenes?



- a) Turbocompresor.
- b) Colector de escape.
- c) Retarder.
- d) Bomba de refrigeración.

PREGUNTA RESERVA

99. ¿Qué pieza se representa en las siguientes imágenes?



- a) Silentblock.
- b) Tensor correa.
- c) Taco motor.
- d) Damper.

SUPUESTO PRÁCTICO Nº 2

Por razones de urgencia Vd. ha de prestar un servicio, entre las 10 horas y las 13 horas, llevando a un director general de la Junta de Castilla y León en un vehículo oficial, de tipo turismo, matriculado en octubre de 2023, que dispone de neumáticos de invierno, debiendo atravesar una zona montañosa. Según las previsiones de la AEMET (Agencia Española de Meteorología), ese día está previsto el paso de un frente con el resultado de intensas precipitaciones de nieve en la zona de montaña por la que inevitablemente ha de circular. El día del viaje se señala el nivel rojo en un tramo por el que vamos a circular.

Durante el trayecto, a la entrada de un municipio se encuentra en un paso estrecho, sin señalizar, donde sólo puede entrar un vehículo y donde se hallan, en distinto sentido, una autocaravana y un autobús.

Una vez transcurridas 2 horas del viaje y pasada la situación de nevada intensa, mientras circula por una vía convencional, se enciende una luz de aviso en el vehículo oficial con una advertencia de avería. Como consecuencia, detiene el vehículo y tras analizar el motor concluye que es una avería en la bomba de refrigeración.

PREGUNTAS:

100. Antes de comenzar el viaje, ¿dónde puede obtener información precisa sobre el estado de las carreteras?

- a) A través del teléfono 112.
- b) A través del teléfono 016.
- c) A través del teléfono 011.
- d) A través de la Jefatura de Tráfico de su Provincia.

101. ¿Qué implica que se haya acordado un nivel rojo en un tramo por el que vamos a circular?

- a) Que se permite la circulación de toda clase de vehículos siempre que vayan equipados con cadenas o neumáticos especiales.
- b) Que se prohíbe la circulación a vehículos articulados, camiones y autobuses.
- c) Que se permite la circulación de toda clase de vehículos con cadenas o neumáticos especiales siempre que no superen los 30 km/h.
- d) Que no se permite la circulación, queda la carretera cortada.

102. ¿Ha de portar cadenas en el maletero?

- a) Sí, unos neumáticos nunca son lo suficientemente seguros en condiciones de nieve.
- b) No, los neumáticos con los que está equipado el vehículo no requieren de cadenas o dispositivos asimilables.
- c) Sí, los vehículos oficiales están obligados a llevarlos.
- d) Siempre se debe llevar cadenas si se va a circular por puertos de montaña.

103. Para comprobar si el vehículo oficial que le han asignado tiene montados neumáticos de invierno ¿qué distintivo (marcas o letras) han de llevar?

- a) La nomenclatura – X TIRES.
- b) La nomenclatura - 3P MS F.
- c) La nomenclatura – 4T WINT.
- d) El código DOT.

104. En el supuesto de que esté circulando y la nevada sea muy intensa en el tramo de montaña que atraviesa, ¿qué alumbrado ha de utilizar?

- a) Luz de corto alcance y luz antiniebla trasera. Además, si el vehículo dispone de la misma, la luz antiniebla delantera.
- b) Sólo luz de corto alcance.
- c) Luz de posición y luz antiniebla trasera. Además, si el vehículo dispone de la misma, la luz antiniebla delantera.
- d) Luz de corto o largo alcance. Nunca se emplearán las luces antiniebla, sería contraproducente.

105. En el caso de que la vía que esté utilizando sea una autovía de dos carriles para cada sentido de circulación y se encuentre cubierta de nieve, ¿por cuál de sus carriles ha de circular normalmente?

- a) En principio es suficiente con mantener y observar las reglas generales de circulación, no pudiendo abandonar el carril por el que circula.
- b) Se deberá circular por el carril izquierdo para poder evitar las roderas de los vehículos que nos preceden, pues dificultan nuestra marcha. Además, permite que las máquinas quitanieves dejen expedito el carril derecho, que es el carril utilizado por todo tipo de vehículos.
- c) Deberá circular por el carril derecho para poder desplazarse sobre las roderas de los vehículos que le preceden, si fuese recomendable hacerlo. Además, permite dejar libre el carril izquierdo para dejar pasar a vehículos de conservación de carreteras y quitanieves.
- d) Se utilizará preferentemente los arcenes, pues en caso de detención quedan libres el resto de los carriles.

106. En el caso de que, bajando el puerto de montaña, se produzca un fallo en el sistema de frenado de servicio, ¿cómo se ha de actuar?

- a) Desde un principio se empleará de forma progresiva el freno de estacionamiento.
- b) Mediante el roce de la carrocería con guardarraíles y otros elementos fijos de la vía para ir consiguiendo disminuir la velocidad de forma progresiva.
- c) Empleando el freno de estacionamiento a la vez que procediendo al roce con elementos fijos de la vía.
- d) Emplearía el sistema de frenado de servicio pues entra en funcionamiento, de forma automática, el freno de socorro.

107. A la entrada de un municipio se encuentra en un paso estrecho, sin señalizar, donde sólo puede entrar un vehículo y donde se hayan, en distinto sentido, una autocaravana y un autobús. ¿Cuál de los dos vehículos tiene preferencia?

- a) La autocaravana.
- b) El autobús.
- c) El que haya llegado primero al punto intermedio.
- d) El que tuviera que dar marcha atrás mayor distancia.

108. En el momento de la avería descrito en el supuesto, ¿Cómo lo ha de señalizar?

- a) Hay que encender la luz de emergencia en tanto se deja expedita la vía, y emplear el dispositivo V-16, si dispone del mismo, o los triángulos de preseñalización de peligro.
- b) Hay que encender la luz de emergencia y las luces de posición, en tanto se deja expedita la vía y emplear el dispositivo V-16 o los triángulos de preseñalización de peligro.
- c) Es suficiente con emplear el dispositivo de preseñalización de peligro reglamentario para advertir dicha circunstancia: siempre se utilizarán los triángulos de preseñalización de peligro y en caso de disponer de ella, la señal V-16.
- d) Hay que encender la luz de emergencia, en tanto se deja expedita la vía y emplear el dispositivo V-16 y los triángulos de preseñalización de peligro.

109. ¿Dónde se sitúa la bomba de refrigeración?

- a) En la parte intermedia del circuito de refrigeración, para que así le cueste menos mover el líquido refrigerante por todo él.
- b) En la parte alta del circuito.
- c) Intercalada en el circuito, en un punto bajo del mismo, para que siempre esté en carga y no trabaje en vacío.
- d) Inmediatamente después de depósito de expansión.

PREGUNTA RESERVA

110. Entre las comprobaciones y actuaciones que deberá efectuar antes de iniciar el viaje, ¿es conveniente comprobar el funcionamiento del aire acondicionado?

- a) No, pues es un elemento que no vamos a utilizar debido a las bajas temperaturas invernales.
- b) Sí, pues cuando hacemos un viaje de muchas horas permite alargar los períodos de descanso.
- c) Sí, pues contribuye al rápido desempañado de los cristales del coche.
- d) No, pues acentúa el fenómeno de condensación del agua en el habitáculo, por lo que se empañarán más los cristales.

SUPUESTO PRÁCTICO N.º 3

Acaba de aprobar la oposición de conductor de la Junta de Castilla y León y le han asignado el puesto de conductor del Director de Administración Local en Valladolid.

El Director de Administración Local tiene que realizar estos dos viajes:

- Debe ir a un municipio cercano al Río Pirón.
- Debe ir a un acto en el Desfiladero de los Beyos.

Durante el trayecto por la carretera N 120 entre dos municipios alcanza un autobús de transporte regular de viajeros (que no dispone de cinturones de seguridad) que circula a una velocidad de 85 km/h, al que se dispone a adelantar, realizando esta maniobra, cuando las circunstancias lo permiten, para lo cual acelera hasta los 95 km/h.

Durante este viaje circula por una calzada con doble sentido de circulación y arcenes donde se ha habilitado un carril adicional de circulación en el sentido de su marcha sin que esté específicamente señalada la velocidad máxima ni mínima a la que debe circular, y le da el alto una patrulla de la Guardia Civil de Tráfico solicitándole que le muestre el permiso de circulación del vehículo. Además, le informan que le van a sancionar ya que ha cometido una infracción al realizar un adelantamiento en una carretera convencional, fuera de casco urbano, rebasando la velocidad máxima permitida.

A continuación, por esta misma carretera transita a 80km/h por un paso inferior insuficientemente iluminado en el que existe una señal "túnel" (S-5) por el que no circula ningún otro vehículo en sentido contrario.

Unos kilómetros más adelante se incorpora a una autovía y durante el este trayecto se percata de que en el carril derecho y cerca del arcén existe un taxi accidentado, sin que se hayan producido daños personales. El conductor del taxi le hace señales para que se detenga, y una vez detenido en el arcén, le pide ayuda para remolcar el vehículo fuera de la calzada para no entorpecer la circulación y evitar posibles accidentes.

Unos minutos más tarde, llega una patrulla de la Guardia Civil de tráfico al lugar del suceso y solicita al dueño del taxi la documentación del vehículo, advirtiéndole que no ha pasado en tiempo la Inspección técnica de vehículos (ITV), informándole que va a ser objeto de sanción y le pide que se someta a la prueba de alcohol y drogas, a lo que el taxista se niega.

111. ¿Por cuál de las siguientes provincias discurre el río Pirón?

- a) Ávila.
- b) Salamanca.
- c) Segovia.
- d) Soria.

112.¿Por qué provincia discurre parte del desfiladero o garganta de los Beyos?

- a) Palencia.
- b) León.
- c) Burgos.
- d) Zamora.

113.¿Es correcta la velocidad a la que circula el autobús de transporte regular de viajeros?

- a) No, pues la velocidad máxima es de 60km/h.
- b) No, pues la velocidad máxima es de 70 Km/h.
- c) No, pues la velocidad máxima es de 80 Km/h.
- d) Si, pues la velocidad máxima es de 90 Km/h.

114.¿Qué características tiene el permiso de circulación?

- a) El permiso de circulación será de color verde, de formato UNE A4, de 148 por 210 milímetros, y estará compuesto de cuatro páginas.
- b) El permiso de circulación será de color verde, de formato UNE A4, de 148 por 200 milímetros, y estará compuesto de cuatro páginas.
- c) El permiso de circulación será de color verde, de formato UNE A5, de 148 por 210 milímetros, y estará compuesto de cuatro páginas.
- d) El permiso de circulación será de color verde, de formato UNE A5, de 148 por 200 milímetros, y estará compuesto de cuatro páginas.

115.En relación con el adelantamiento realizado, ¿es correcto que le sancionen?

- a) Sí, ya que se trata de una carretera convencional que no discurre en suelo urbano, y ha rebasado la velocidad máxima permitida en la vía.
- b) No, ya que al ser una carretera convencional que no discurre en suelo urbano, conduciendo un turismo se puede rebasar, en un adelantamiento, la velocidad máxima permitida en la vía hasta en 20 Km/h.
- c) No, ya que al ser una carretera convencional que no discurre en suelo urbano, conduciendo un turismo se puede rebasar, en un adelantamiento, la velocidad máxima permitida en la vía hasta en 15Km/h.
- d) Sí, ya que, conduciendo un turismo, solo se puede rebasar en 20 Km/h la velocidad máxima permitida en un adelantamiento si se tratara de una autopista o autovía.

116.¿En el carril adicional de circulación habilitado al efecto, cuál es la velocidad máxima y mínima a la que deberá circular?

- a) Velocidad máxima de 70 Km/h y mínima de 40 Km/h.
- b) Velocidad máxima de 70 Km/h y mínima de 45 Km/h.
- c) Velocidad máxima de 80 Km/h y mínima de 60 Km/h.
- d) Velocidad máxima de 80 Km/h y mínima de 40Km/h.

117.¿Qué alumbrado deberá llevar encendida el vehículo oficial en el tramo afectado por la señal “túnel” (S-5)?

- a) La luz de cruce o corto alcance.
- b) La luz de posición.
- c) La luz de carretera o largo alcance.
- d) Las luces de corto alcance y antiniebla delanteras en tramos sinuosos.

118.En el caso del accidente del taxi descrito en el supuesto ¿puede el vehículo oficial remolcar el taxi a un lugar seguro?

- a) Sí, cualquier vehículo puede hacerlo para evitar accidentes.
- b) No, esta maniobra exclusivamente puede hacerse por un vehículo grúa.
- c) Sí, aunque como norma general debe hacerla un vehículo grúa, excepcionalmente y en condiciones de seguridad, pueden hacerlo otros vehículos hasta el lugar más próximo donde pueda quedar inmovilizado y sin entorpecer la circulación.
- d) No, esta maniobra solo se puede realizar en presencia de los agentes de tráfico.

119.¿A quién corresponde resolver la sanción por la infracción de incumplimiento de la obligación de someterse a la inspección técnica de vehículos descrita en el supuesto?

- a) Al concejal de tráfico del municipio en el que esté matriculado el vehículo.
- b) A la Jefatura Central de Tráfico (DGT).
- c) Al Consejo Superior de Tráfico, Seguridad Vial y Movilidad Sostenible.
- d) Al alcalde del municipio en el que esté matriculado el vehículo.

120.La negativa de taxista a someterse a una prueba de alcohol o drogas supone:

- a) Una pena de prisión de tres a seis meses y privación del derecho a conducir de uno año hasta cuatro años.
- b) La multa de 1000 euros y pérdida de 6 puntos.
- c) Una pena de prisión de seis meses a un año y privación del derecho a conducir de uno año hasta cuatro años.
- d) Privación del derecho a conducir de 2 a 4 años.

PREGUNTA RESERVA

121.Indique la frecuencia de inspección técnica periódica del vehículo accidentado.

- a) Hasta 5 años: Exento. De más de 5 años: Anual.
- b) Hasta 2 años: Exento. De más de 2 años: Semestral.
- c) Hasta 2 años: Anual. De más de 2 años: Semestral.
- d) Hasta 5 años: Anual. De más de 5 años: Semestral.

PLANTILLA, EJERCICIO ÚNICO DE LAS PRUEBA DE ACCESO LIBRE CONDUCTORES DE LA ADMINISTRACIÓN DE LA COMUNIDAD DE CASTILLA Y LEÓN

26 de mayo de 2024

Nº. PREGUNTA	CONTESTACIÓN	Nº. PREGUNTA	CONTESTACIÓN	Nº. PREGUNTA	CONTESTACIÓN	Nº. PREGUNTA	CONTESTACIÓN	Nº. PREGUNTA	CONTESTACIÓN
PRIMERA PARTE		31	D	62	A	SEGUNDA PARTE		Supuesto Práctico Nº 3:	
1	B	32	B	63	A	Supuesto Práctico Nº 1:		111	C
2	D	33	C	64	C	89	C	112	B
3	B	34	C	65	D	90	A	113	C
4	A	35	A	66	C	91	C	114	C
5	C	36	C	67	D	92	C	115	A
6	D	37	A	68	A	93	A	116	C
7	D	38	C	69	A	94	D	117	C
8	B	39	B	70	B	95	C	118	B
9	D	40	B	71	C	96	D	119	B
10	D	41	C	72	D	97	B	120	C
11	D	42	B	73	C	98	A	<i>Reserva:</i>	
12	C	43	B	74	C	<i>Reserva:</i>		121	D
13	B	44	C	75	A	99	B		
14	C	45	B	76	A				
15	B	46	B	77	A	Supuesto Práctico Nº 2:			
16	D	47	C	78	C	100	C		
17	B	48	D	79	B	101	B		
18	C	49	B	80	D	102	B		
19	B	50	A			103	B		
20	D	51	A	<i>Reserva:</i>		104	A		
21	C	52	D	81	C	105	C		
22	C	53	D	82	B	106	D		
23	C	54	A	83	C	107	A		
24	B	55	B	84	B	108	A		
25	D	56	D	85	A	109	C		
26	B	57	A	86	B	<i>Reserva:</i>			
27	D	58	D	87	B	110	C		
28	A	59	C	88	B				
29	A	60	C						
30	B	61	A						